

8.

SINIF

TREND

L

G

S

1. DÖNEM DENEME

SINAVLA ÖĞRENCİ ALACAK ORTAÖĞRETİM
KURUMLARINA İLİŞKİN MERKEZÎ SINAV

3

DİN KÜLTÜRÜ VE AHLAK BİLGİSİ

Adı Soyadı:.....

Okulu:.....

Sınıfı / Şubesi:

Numarası:.....

Ders

DİN KÜLTÜRÜ VE AHLAK BİLGİSİ

Soru Sayısı

10

1. "Gökleri yedi kat yaratan O'dur. Rahman'ın yaratmasında bir düzensizlik göremezsin. Gözünü çevir de bir bak bir bozukluk görüyor musun?" (Mülk Suresi, 3. Ayet)

Yukarıdaki ayette aşağıdakilerden hangisi vurgulanmaktadır?

- A) Allah'ın gücü her şeye yeter.
B) Allah her şeyi görendir, bilendir.
C) Allah her şeyi düzenli ve uyumlu yaratmıştır.
D) Atmosfer çeşitli katmanlar şeklinde yaratılmıştır.
2. Yıldızlar bir adım yolundan şaşmaz, Dağlar haddin bilir, denizler taşmaz, Karıncanın yükü boyunu aşmaz, Bunca dengelerin farkında mısın? Cengiz Numanoglu

Şairin şiirde vurgulamak istediği konu hangisi olabilir?

- A) Her şeyin planlı yaratılmış olması
B) Karıncanın çalışkanlığının herkesçe bilinmesi
C) Denizlerdeki su seviyesi
D) Yıldızların konumundaki ahenk
3. Aşağıdaki ayetlerden hangisi Allah'ın evreni plan, program ve düzen içinde yarattığına delil olarak gösterilemez?

- A) "Geceyi ve gündüzü, Güneşi ve Ayı yaratan O' dur. Her biri bir yörüngede hareket etmektedir." (Enbiyâ Suresi, 33. Ayet)
B) "(Öyle) Bir fitneden sakının ki aranızdan yalnız haksızlık edenlere erişmekle kalmaz (hepinize erişir)..." (Enfâl Suresi, 25. Ayet)
C) "Biz suyu gökten (belirlediğimiz) bir ölçüye göre indiriyor, sonra da onu yeryüzünde tutuyoruz..." (Mü'minûn Suresi 18. Ayet)
D) "...Her şeyi yaratmış, ona bir ölçü, biçim ve düzen vermiştir." (Furkân Suresi, 2. Ayet)

4. • İnsanlar nefes alabilmek için oksijene ihtiyaç duyarlar.
• Bazı canlılar oksijen tüketip karbondioksit açığa çıkarırlar.
• Bitkiler karbondioksit kullanıp oksijen üretirler.
• Denizlerdeki tuz, deniz canlıları en için uygun orandadır.
• Gezegen ve yıldızların aralarındaki mesafe, evrendeki düzen ve dengeyi sarsmayacak şekildedir.

Yukarıdaki yargılardan çıkarılacak en kapsamlı sonuç aşağıdakilerden hangisidir?





- A)Yıldızlar ve gezegenler şans eseri bu şekilde dizilmemişlerdir.
B) En uyumlu yaratma bitkilerdedir.
C) Düzen ve denge sadece denizlerde vardır.
D) Evrendeki tüm varlıklarda uyum ve düzen görülmektedir

5. Soru : Allah'ın evreni düzen ve uyum içinde yaratmasına örnek veriniz?

Öğretmenin bu sorusuna hangi öğrenci yanlış cevap vermiştir?

- A)  Ayşe'nin annesinin yemeklerinin herkesin beğeneceği kadar güzel olması.
- B)  Denizlerdeki tuz oranının orada yaşayan canlılar için en uygun oranda olması.
- C)  Gezegenlerin ve yıldızların aralarındaki mesafenin evrendeki düzen ve dengeyi sarsmayacak şekilde olması.
- D)  Gece ile gündüzün insan yaşamına uygun zaman dilimlerinde peş peşe gelmesi.

6. "İnsanın başka insanlara olan ihtiyacı ne zaman başlar?" diye soran öğretmene hangi öğrenci doğru cevap vermiştir?

- A)  Doğduğu andan itibaren
- B)  Okula başlayınca
- C)  Yaşlandıktan sonra
- D)  Ergenlik çağına ulaştıktan sonra

7. Paylaşma ve yardımlaşma ile ilgili olarak aşağıdaki cümlelerden hangisi yanlıştır?

- A) İnsanın hem maddi hem de manevi ihtiyaçları vardır.
- B) İslam paylaşmaya büyük önem vermiştir.
- C) Paylaşma, toplumdaki birlik ve beraberliği güçlendirir.
- D) İnsan tek başına da yaşayabilir.

8. "Takva sahipleri, bollukta da darlıkta da Allah için harcarlar (infak ederler). Öfkelerini yutarlar ve insanları affederler. Allah da güzel davranışta bulunanları sever." (Âl-i İmrân Suresi, 134. Ayet)

Aşağıdakilerden hangisini ayetten çıkaramayız?

- A) Allah sabreden ve affeden kişileri sever.
- B) Sadece zenginler Allah için infak edebilir.
- C) Takva sahipleri her zaman insanlara yardım ederler.
- D) İhtiyaç sahiplerine yardım etmek için zengin olmak şart değildir.

	Maddi İhtiyaçlar	Manevi İhtiyaçlar
I	Elbise	Sevgi
II	Gıda	Saygı
III	Merhamet	Araba
IV	Ev	Hoşgörü

9.

İnsanların hem maddi hem de manevi ihtiyaçları vardır. Tabloda yapılan ihtiyaç eşleştirmelerinden hangisi yanlıştır?

- A) I B) II C) III D) IV

10. Paylaşma ve yardımlaşma; aşağıdaki duygu ve davranışlardan hangisine engel olmaz?

- A) Bencilik B) Kıskançlık
C) Cömertlik D) Cimrilik

TESTİN CEVAP ANAHTARI İÇİN TIKLAYINIZ.

Ad Soyad:

Tarih:

Aldığı Not:

OPTİK FORM

1 (A) (B) (C) (D)

2 (A) (B) (C) (D)

3 (A) (B) (C) (D)

4 (A) (B) (C) (D)

5 (A) (B) (C) (D)

6 (A) (B) (C) (D)

7 (A) (B) (C) (D)

8 (A) (B) (C) (D)

9 (A) (B) (C) (D)

10 (A) (B) (C) (D)

11 (A) (B) (C) (D)

12 (A) (B) (C) (D)

13 (A) (B) (C) (D)

14 (A) (B) (C) (D)

15 (A) (B) (C) (D)

16 (A) (B) (C) (D)

17 (A) (B) (C) (D)

18 (A) (B) (C) (D)

19 (A) (B) (C) (D)

20 (A) (B) (C) (D)

8. SINIF SINAV VE CEVAP ANAHTARI İÇİN TIKLAYINIZ



WHATSAPP
DİN DERSİ TÜRKİYE ZÜMRESİ



Gruplara Katılmak İçin İkonların Üzerine Tıklayınız



TELEGRAM
DİN DERSİ TÜRKİYE ZÜMRESİ

Paylaşım Grubu



Paylaşım Kanalı

Gruplara Katılmak İçin İkonların Üzerine Tıklayınız

SOSYAL MEDYA
HESAPLARIMIZ



@ddy_yayinlari



DDY Yayınları



DDY Yayınları



0 555 153 08 74 - 0 505 979 88 88

YENİ NESİL EFSANEM SERİSİ

YENİ NESİL AKILLI DEFTERLERİMİZ



YENİ NESİL SORU BANKALARIMIZ



Sipariş Tel:

0 555 153 08 74 - 0 505 979 88 88

Sadece Din Dersi...

DDY YAYINLARI